

TRACCIA ESTRATTA

CONCORSO PUBBLICO PER TITOLI ED ESAMI PER LA COPERTURA DI N. 1 POSTO DI
IMPIEGATO PRESSO IL CONSORZIO DELL'OGLIO – AREA C – POSIZIONE ECONOMICA C3 – A
TEMPO PIENO E INDETERMINATO

(CCNL Enti pubblici non economici – comparto funzioni centrali)

Prova scritta pratico - attitudinale




Il candidato deve **rispondere ad entrambi i quesiti** utilizzando **al massimo quattro facciate** del foglio ricevuto. Il secondo foglio ricevuto può essere utilizzato come brutta copia.

Tempo a disposizione: **2 ore**

Quesito

Il candidato dia una definizione di portata in un corso d'acqua, illustri i criteri di misurazione delle portate nei corsi d'acqua naturali e argomenti la misurazione e la raccolta dati di portata nei canali artificiali di derivazione.

Il candidato illustri sinteticamente il concetto di una tabella pivot:



CONCORSO PUBBLICO PER TITOLI ED ESAMI PER LA COPERTURA DI N. 1 POSTO DI
IMPIEGATO PRESSO IL CONSORZIO DELL'OGGIO – AREA C – POSIZIONE ECONOMICA C3 – A
TEMPO PIENO E INDETERMINATO

(CCNL Enti pubblici non economici – comparto funzioni centrali)

Prova scritta pratico - attitudinale

Il candidato deve **rispondere ad entrambi i quesiti** utilizzando **al massimo quattro facciate** del foglio ricevuto. Il secondo foglio ricevuto può essere utilizzato come brutta copia.

Tempo a disposizione: **2 ore**

Quesito

Il candidato dia una definizione di tempo di corrivazione, bacino imbrifero e DMV; illustri poi le influenze che hanno questi parametri nel deflusso delle portate in una sezione di un corso d'acqua.

Il candidato illustri sinteticamente la scelta d'uso dei principali programmi di scrittura e calcolo (word, pdf, excel) nella gestione ed archiviazione dei documenti d'ufficio.

*Il
Lionelli*

CONCORSO PUBBLICO PER TITOLI ED ESAMI PER LA COPERTURA DI N. 1 POSTO DI
IMPIEGATO PRESSO IL CONSORZIO DELL'OGGIO – AREA C – POSIZIONE ECONOMICA C3 – A
TEMPO PIENO E INDETERMINATO

(CCNL Enti pubblici non economici – comparto funzioni centrali)

Prova scritta pratico - attitudinale

Il candidato deve **rispondere ad entrambi i quesiti** utilizzando **al massimo quattro facciate** del foglio ricevuto. Il secondo foglio ricevuto può essere utilizzato come brutta copia.

Tempo a disposizione: **2 ore**

Quesito

Il candidato dia una definizione di piena, effettui l'analisi di un idrogramma di piena nelle sue componenti; argomenti inoltre l'influenza delle piene sui livelli idrici del lago regolato e dell'emissario.

Il candidato illustri sinteticamente il concetto di funzioni macro di excel.

